

CAP

PRÉVENTION, SANTÉ, ENVIRONNEMENT

Session 2016

DURÉE : 1H00 maximum

CORRIGÉ

CAP	Code : 16-021	Session 2016	CORRIGÉ
Épreuve : Prévention, Santé, Environnement		Durée : 1 heure	Coefficient 1

PARTIE 1 – 10 points

1.1 Identifier le problème posé en cochant la bonne réponse :

0,25 point

Théo veut poursuivre sa formation professionnelle

1.2 Repérer les éléments de la situation en complétant le tableau suivant :

1,5 point = 6 x 0,25

	Éléments de la situation
Qui ?	Théo, (18 ans)
Quoi ? (Que désire-t-il ?)	Poursuivre ses études.
Où ?	Au lycée professionnel <u>ou</u> Unité de Formation des Apprentis <u>ou</u> Centre de Formation des Apprentis.
Quand ?	Après le CAP.
Comment ? (Quelles sont les possibilités offertes ?)	- Mention Complémentaire en LP - Brevet Professionnel en alternance <i>Les <u>deux</u> réponses doivent être données.</i>
Pourquoi ? (Quels sont les objectifs de sa démarche ?)	Compléter sa formation professionnelle / Ouvrir son propre salon dans quelques années. (1 seule réponse)

1.3 Donner la signification du sigle CAP.

0,25 point

Certificat d'Aptitude Professionnelle

1.4 À l'aide du document 1, indiquer le niveau de qualification du CAP en cochant la bonne réponse.

niveau V

0,5 point

1.5.1 À l'aide du document 2, indiquer le type de formation professionnelle correspondant au cas de Théo.

0, 5 point

Formation initiale

1.5.2 Souligner, dans le document 2, les buts de la formation professionnelle tout au long de la vie pour un salarié.

0, 5 point (0 pt si autre élément souligné)

Elle vise à permettre à chaque personne, indépendamment de son statut, d'acquérir et d'actualiser des connaissances et des compétences favorisant son évolution professionnelle, ainsi que de progresser d'au moins un niveau de qualification au cours de sa vie professionnelle. (+ éventuellement promotion des salariés)

1.6 Proposer un moyen de contraception convenant à la situation de Théo et Karine. Justifier votre réponse.

0, 5 point = 2 x 0,25

Le préservatif car il protège de la grossesse et des IST.

1.7 Citer 2 exemples d'infections sexuellement transmissibles.

0, 5 point = 2 x 0,25

2 réponses au choix parmi : SIDA, syphilis, blennorragie ou chaude pisse, herpès génital, chlamydie, condylome, hépatite B, ... (ou toute autre réponse cohérente)

1.8.1 Relever, dans le document 3, deux situations nécessitant un dépistage du SIDA.

0,5 point = 2 x 0,25

- En cas de prise de risque (rapport sexuel sans préservatif avec une personne de statut sérologique inconnu).
- En cas de prise de risque (accident de préservatif pendant le rapport sexuel).
- Si vous souhaitez abandonner le préservatif dans le cadre d'une relation stable.

1.8.2 Justifier l'utilité de ce dépistage.

0,5 point (1 réponse au choix ou toute réponse cohérente)

Bénéficier d'une prise en charge précoce de l'infection (traitement préventif)
Prévenir, éviter de contaminer son partenaire.

1.8.3 Citer une structure d'accueil, d'aide et de soutien concernant les IST.

0,25 point (1 réponse au choix ou toute réponse cohérente)

SIDA Info service (site ou téléphone), AIDES, CDAG (Consultation de Dépistage Anonyme et Gratuit), CIDDIST (Centre d'Information, de Dépistage et de Diagnostic des IST), CGIDD (Centre Gratuit d'Information de Dépistage et de Diagnostic des IST, créé depuis le 1^{er} janvier 2016), Centre de planification, Planning Familial. (*Cabinet médical médecin/infirmière, hôpitaux...*)

1.9 La consommation de substances psychoactives peut entraîner une conduite addictive. Définir le terme souligné.

0,5 point (toute réponse cohérente acceptée)

C'est l'impossibilité répétée de contrôler un comportement (consommation de produits : alcool, tabac, drogues... ou pratique d'une activité : travail, portable...) et la poursuite de ce comportement en dépit de la connaissance des conséquences négatives. L'addiction se caractérise par la dépendance.

1.10 Indiquer deux conséquences de la consommation de substances psychoactives :

- sur le travail du salarié :

2 x 0,25 : 2 réponses au choix ou toute autre réponse cohérente

- Perte de la vigilance, diminution de l'attention, prise de risque, mauvaise qualité du travail, baisse du rendement, comportement agressif, mauvaises relations avec les collègues.

- sur le fonctionnement de l'entreprise :

2 x 0,25 : 2 réponses au choix ou toute autre réponse cohérente

- Perte financière, accident du travail, retard dans la production, diminution de la productivité, augmentation de l'absentéisme, mauvaise ambiance, mauvaise image de l'entreprise.

1.11.1 Repérer et souligner, dans le document 4, l'action présentant le « principe de précaution »

0,25 point

Ikea suspend la vente de boulettes de viande après des malaises

Ou

L'enseigne Ikea a suspendu vendredi de la vente des boulettes de viande.

1.11.2 Justifier l'intérêt de cette action

0,5 point

Les boulettes de viande peuvent contenir des bactéries ou toxines dangereuses pour le consommateur. En attendant le résultat des analyses, elles ne doivent pas être consommées. (*Toute autre réponse logique acceptée*)

1.11.3 Relever, dans le document 4, le nom de l'organisme public chargé de la sécurité alimentaire.

0,5 point




La Direction départementale de protection de la population.

1.12 Attribuer à chaque signe de qualité ci-dessous, deux aliments de la liste suivante :

- farine
- saumon fumé
- jambon de Bayonne
- poulet
- camembert de Normandie
- crème dessert

Chaque aliment n'est présent qu'une seule fois dans le tableau

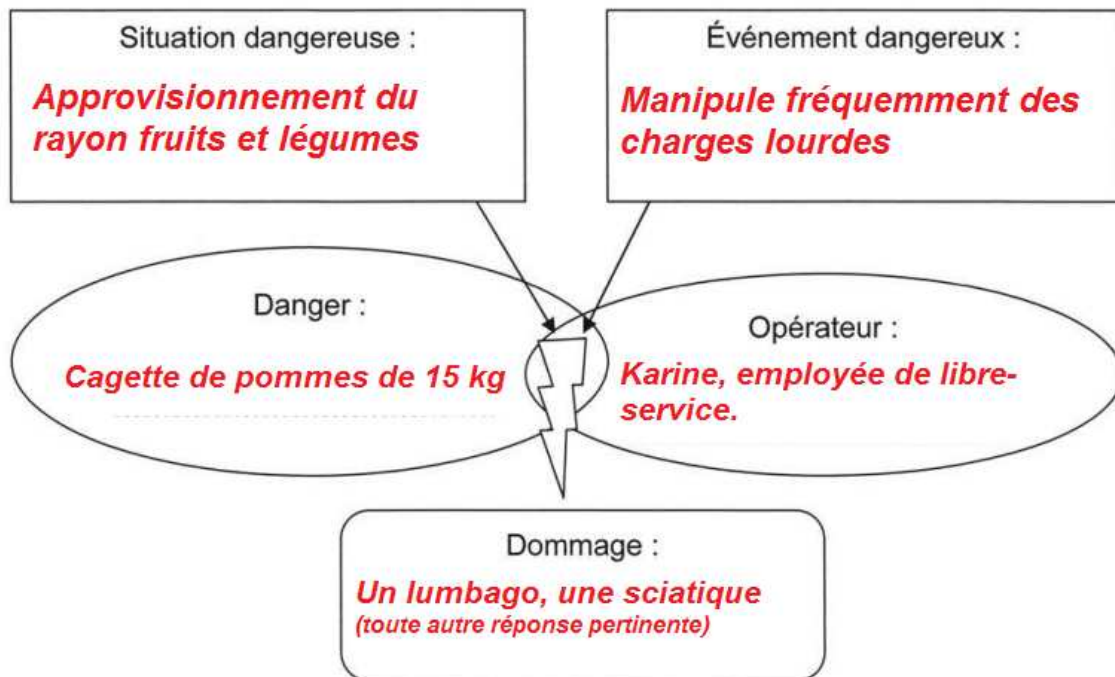
1,5 point = 6 x 0,25

Signes de qualité	Aliments
	Poulet, Saumon fumé (autre réponse acceptée : Jambon de Bayonne <u>SI</u> pas cité à la ligne Indication Géographique Protégée. 2 x 0,25 maxi)
	Farine, Crème dessert, Poulet, Saumon (toutes les réponses peuvent être acceptées si elles ne sont inscrites que dans cette case. 2 x 0,25 maxi)
	Jambon de Bayonne, Camembert de Normandie. 2 x 0,25

PARTIE 2 – 10 points

PARTIE 2.1 – 8 points

- 2.1.1 À l'aide des éléments soulignés et de vos connaissances, complétez le schéma d'apparition du dommage ci-dessous. 2,5 points = 5 x 0,5



- 2.1.2 Indiquer la démarche que doit faire l'employée. Préciser le délai à respecter. 0,5 point = 2 x 0,25
Prévenir son employeur de l'accident du travail dans un délai de 24 heures
- 2.1.3 Indiquer la démarche que doit faire son employeur. Préciser le délai à respecter. 0,5 point = 2 x 0,25
Déclarer l'accident du travail à la CPAM (ou sécurité sociale) dans un délai de 48 heures
- 2.1.4 En vous aidant du document 5, donner une définition de la manutention manuelle. 0,25 point (toute réponse cohérente acceptée)
Toute opération (porter, pousser, tirer, lever, poser ou déposer des charges) exigeant un effort physique...
- 2.1.5 Relever, dans le document 5, les deux secteurs professionnels où les manutentions sont les plus fréquentes. 0,5 point = 2 x 0,25
Le bâtiment et l'industrie
- 2.1.6 Proposer, à l'aide du document 5, deux mesures de prévention des risques liés à la charge physique du travail. 1 point = 2 x 0,5 (toute réponse cohérente acceptée)
- Mettre à disposition des aides à la manutention (ou agir en priorité sur les opérations de manutention manuelle inutiles ou qui peuvent être facilement évitées)
 - Alléger la charge

2.1.7 Donner la signification du sigle CHSCT.

1 point (0,5 à partir de 3 mots corrects / 0 pt si un terme inexact)

Comité d'Hygiène, de Sécurité et des Conditions de Travail.

2.1.8 À partir de la situation de Karine, indiquer si le CHSCT est obligatoire dans son entreprise. Justifier votre réponse.

0,5 point = 2 x 0,25

Il est obligatoire car l'entreprise comprend plus de 50 salariés (ou l'entreprise comprend 59 employés).

2.1.9 Indiquer un autre type de visite médicale obligatoire.

0,25 point (une réponse au choix)

La visite d'embauche

La visite périodique (tous les 24 mois) – visite annuelle

2.1.10 Cocher les situations relevant des missions du médecin du travail.

1 point = 4 x 0,25 (moins 0,25 pt par erreur)

- Il assiste à une réunion du CHSCT dans une entreprise.
- Il propose des mesures de prévention contre le bruit.
- Il reçoit, au cours d'une visite de reprise, une salariée après un congé de maternité.
- Il propose un aménagement du poste de travail d'un salarié handicapé.

PARTIE 2.2 – 2 points

2.2.1 Nommer, à l'aide de quatre verbes à l'infinitif, les actions menées par le collègue de Patrick (respecter l'ordre chronologique).

1 point = 4 x 0,25

- ① Protéger
- ② Examiner
- ③ Alerter ou Faire alerter
- ④ Secourir

2.2.2 Indiquer le geste de secours qui doit être pratiqué dans cette situation d'accident.

0,5 point

Mettre la victime en position latérale de sécurité (PLS) ou mettre la victime sur le côté.

2.2.3 Proposer une mesure de prévention pour que ce type d'accident ne se reproduise pas.

0,5 point (une réponse au choix ou toute autre réponse cohérente)

- Porter des chaussures antidérapantes
- Améliorer l'éclairage de la réserve
- Mettre à disposition du matériel de balisage de la zone dangereuse
- Former le personnel au chargement, maniement du transpalette (ou rappel des règles)
- Sensibiliser les salariés aux précautions à prendre en cas de produits répandus sur le sol
- Affichage